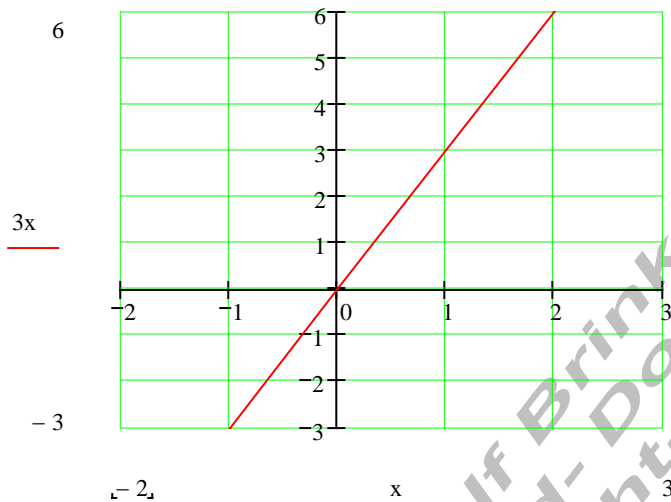


Lineare Funktionen

Es soll der Graph der Funktion $f = \{x, y \mid y = f(x) = 3x\}_{\mathbb{R} \times \mathbb{R}}$
in den Bereichen

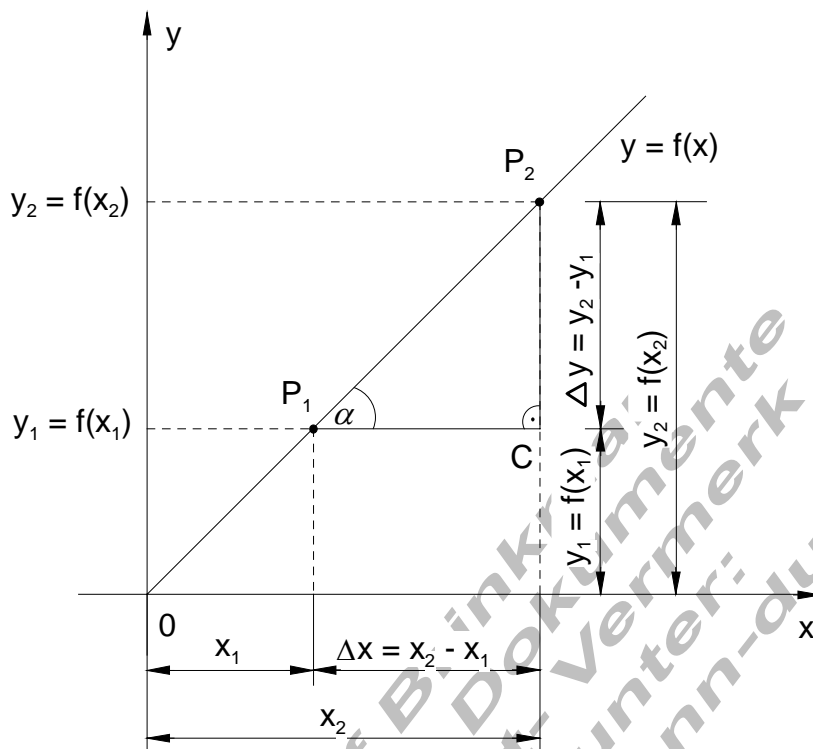
$D = \{x \mid -2 \leq x \leq 3\}_{\mathbb{R}}$ und $W = \{y \mid -3 \leq y \leq 6\}_{\mathbb{R}}$ erstellt werden.

x	-2	-1	0	1	2	3
f(x) = 3x	-6	-3	0	3	6	9



Definition	Eine Funktion heißt Lineare Funktion , wenn der Graph der Funktion im rechtwinkligen Koordinatensystem eine Gerade ist. Sie heißt auch Funktion erster Ordnung oder Funktion ersten Grades.
------------	--

Ermittlung der Steigung einer Linearen Funktion mittels Steigungsdreieck



Definition	Die Steigung in einer linearen Funktion ist gleich dem Verhältnis $\frac{\Delta y}{\Delta x}$ der beiden Katheten eines beliebigen rechtwinkligen Dreiecks (Steigungsdreieck), dessen Hypotenuse Teil des Funktionsgraphen ist.
-------------------	---

$$m = \frac{f(x_2) - f(x_1)}{x_2 - x_1} = \frac{y_2 - y_1}{x_2 - x_1} = \frac{\Delta y}{\Delta x} = \tan \alpha$$

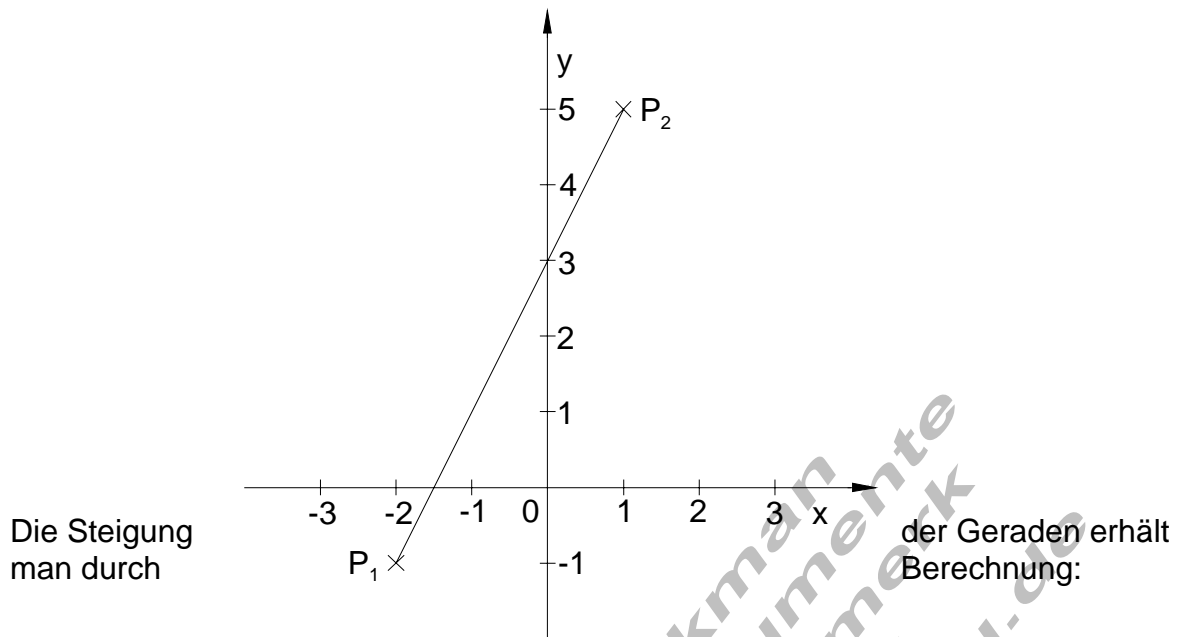
Sind also zwei Punkte einer Geraden durch ihre Koordinaten gegeben, so kann man:

1. die Gerade zeichnen
2. die Steigung der Geraden mit Hilfe des Steigungsdreiecks ermitteln.

Beispiele:

Gegeben sind die beiden Punkte $P_1(-2, -1)$ und $P_2(1, 5)$ einer Geraden. Gesucht ist der Graph und die Steigung der Geraden.

Die Verbindung der beiden Punkte P_1 und P_2 im Koordinatensystem ergibt den gesuchten Graph der Geraden.



$$P_1(-2, -1) \Rightarrow x_1 = -2 \wedge y_1 = -1$$

$$P_2(1, 5) \Rightarrow x_2 = 1 \wedge y_2 = 5$$

$$m = \frac{\Delta y}{\Delta x} = \frac{y_2 - y_1}{x_2 - x_1} = \frac{5 - (-1)}{1 - (-2)} = \frac{5 + 1}{1 + 2} = \frac{6}{3} = 2$$

Satz	Die allgemeine Form der linearen Funktion hat die Funktionsgleichung $y = f(x) = ax + b$ mit der Steigung $m = a$. Hieraus ergibt sich auch die Bezeichnung Funktion erster Ordnung oder ersten Grades, da die Variable x nur in der ersten Potenz erscheint.
-------------	---

$$f = \{x, y \mid y = f(x) = ax + b\}_{\mathbb{R} \times \mathbb{R}}$$

Beweis:

$$m = \frac{\Delta y}{\Delta x} = \frac{f(x_2) - f(x_1)}{x_2 - x_1} \quad f(x_2) = ax_2 + b \quad f(x_1) = ax_1 + b$$

$$m = \frac{\Delta y}{\Delta x} = \frac{ax_2 + b - (ax_1 + b)}{x_2 - x_1} = \frac{ax_2 + b - ax_1 - b}{x_2 - x_1} = \frac{ax_2 - ax_1}{x_2 - x_1} = \frac{a(x_2 - x_1)}{x_2 - x_1} = a$$

$$\underline{\underline{m = a}}$$

Gegeben sind die beiden Punkte $P_1(-2, -1)$ und $P_2(1, 5)$ einer Geraden.
Gesucht ist die Funktionsgleichung.

Berechnung der Steigung:

$$P_1(-2, -1) \Rightarrow x_1 = -2 \wedge y_1 = -1$$

$$P_2(1, 5) \Rightarrow x_2 = 1 \wedge y_2 = 5$$

$$m = \frac{\Delta y}{\Delta x} = \frac{y_2 - y_1}{x_2 - x_1} = \frac{5 - (-1)}{1 - (-2)} = \frac{5 + 1}{1 + 2} = \frac{6}{3} = 2$$

$$\underline{\underline{m = 2}}$$

Berechnung von b:

$$y = f(x) = mx + b \quad y_1 = -1 \quad x_1 = -2$$

$$-1 = f(-2) = 2 \cdot (-2) + b$$

$$-1 = -4 + b$$

$$-1 + 4 = b$$

$$\underline{\underline{b = 3}}$$

Die Funktionsgleichung:

$$y = f(x) = mx + b$$

$$y = f(x) = 2x + 3$$

$$f = \{x, y \mid y = f(x) = 2x + 3\}_{\mathbb{R} \times \mathbb{R}}$$

Aufgabe:

Gegeben sind die beiden Punkte $P_1(-1, -5)$ und $P_2(2, -1)$ einer Geraden.

Gesucht ist die Steigung m und die Funktionsgleichung.

Zeichne den Graphen.

$$f = \{x, y \mid y = f(x) = -2x + 3\}_{\mathbb{R} \times \mathbb{R}}$$

Bestimmung der Achsenabschnitte:

Schnittpunkt mit der y – Achse:

$$\text{Bedingung: } x = 0 \Rightarrow y = f(0) = -2 \cdot 0 + 3 = 3 \Rightarrow \underline{\underline{P_y(0, 3)}}$$

Schnittpunkt mit der x – Achse:

$$\text{Bedingung: } y = f(x_0) = 0 \Rightarrow 0 = -2x_0 + 3 \Leftrightarrow x_0 = \frac{3}{2} \Rightarrow \underline{\underline{P_x(\frac{3}{2}, 0)}}$$

Allgemeine Berechnung:

$f = \{x, y \mid y = f(x) = mx + b\}_{\mathbb{R} \times \mathbb{R}}$ allgemeine Form der linearen Funktion

$P_x(x_0, 0)$ Bedingung für P_x

$$0 = mx_0 + b \Leftrightarrow x_0 = -\frac{b}{m} \Rightarrow \underline{\underline{P_x\left(-\frac{b}{m}, 0\right)}}$$

$P_y(0; y_0)$ Bedingung für P_y

$$y_0 = m \cdot 0 + b \Leftrightarrow y_0 = b \Rightarrow \underline{\underline{P_y(0, b)}}$$

Zusammenfassung:

Lineare Funktion: $f = \{x, y \mid y = f(x) = ax + b\}_{\mathbb{R} \times \mathbb{R}}$

$$\text{Steigung einer Geraden: } m = \frac{f(x_2) - f(x_1)}{x_2 - x_1} = \frac{y_2 - y_1}{x_2 - x_1} = \frac{\Delta y}{\Delta x} = \tan \alpha$$

Schnittpunkt mit der y -Achse: $P_y(0, b)$

Schnittpunkt mit der x -Achse: $P_x\left(-\frac{b}{m}, 0\right)$

Beispiel:

Gegeben sind die Punkte $P_1(-3, -2)$ und $P_2(4, 2)$.

Gesucht:

- Steigung m der Verbindungsgeraden P_1P_2 .
- Funktionsgleichung der Verbindungsgeraden.
- Schnittpunkt der Geraden mit der Abszissenachse.
- Schnittpunkt der Geraden mit der Ordinatenachse.
- Graph der Funktion in

$$D = \{x \mid -3 \leq x \leq 4\}_{\mathbb{R}}$$

$$W = \{y \mid -2 \leq y \leq 2\}_{\mathbb{R}}$$

$$m = \frac{\Delta y}{\Delta x} = \frac{y_2 - y_1}{x_2 - x_1} = \frac{2 - (-2)}{4 - (-3)} = \frac{2 + 2}{4 + 3} = \frac{4}{7}$$

a)

$$\underline{\underline{m = \frac{4}{7}}}$$

b)

$$y = f(x) = mx + b \quad P_1(-3, -2)$$

$$-2 = \frac{4}{7} \cdot (-3) + b \Leftrightarrow b = -\frac{2}{7} \approx -0,3$$

$$\text{Funktion der Geraden: } f = \left\{ x, y \mid y = f(x) = \frac{4}{7}x - \frac{2}{7} \right\}_{\mathbb{R} \times \mathbb{R}}$$

c)

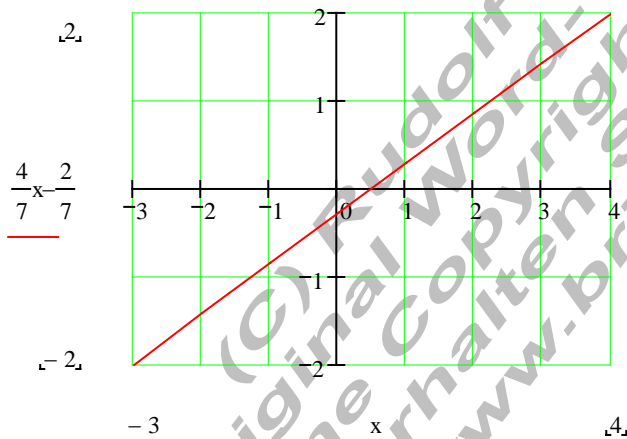
$$y = f(x) = \frac{4}{7}x - \frac{2}{7}$$

$$y_0 = f(x_0) = \frac{4}{7}x_0 - \frac{2}{7} = 0 \Leftrightarrow x_0 = \frac{1}{2} \Rightarrow \underline{\underline{P_x\left(\frac{1}{2}, 0\right)}}$$

d)

$$x_0 = 0 \Rightarrow y_0 = f(0) = \frac{4}{7} \cdot 0 - \frac{2}{7} = -\frac{2}{7} \approx 0,286 \Rightarrow \underline{\underline{P_y\left(0, -\frac{2}{7}\right)}}$$

e)



Aufgaben:

Gegeben sind die Punkte P_1 und P_2 einer Geraden.
Bestimmen Sie:

- den Steigungsfaktor m
- den Schnittpunkt P_y mit der Ordinatenachse
- die Funktionsgleichung der Geraden
- den Schnittpunkt P_x mit der Abszissenachse
- den Graphen der Funktion in den Mengen D und W

- $P_1(3,4)$ $P_2(7,-1)$ $D = \{x \mid 0 \leq x \leq 7\}_{\mathbb{R}}$ $W = \{y \mid -1 \leq y \leq 8\}_{\mathbb{R}}$
- $P_1(-8,1)$ $P_2(2,-3)$ $D = \{x \mid -7 \leq x \leq 2\}_{\mathbb{R}}$ $W = \{y \mid -3 \leq y \leq 1\}_{\mathbb{R}}$
- $P_1(4,3)$ $P_2(-7,-1)$ $D = \{x \mid -7 \leq x \leq 4\}_{\mathbb{R}}$ $W = \{y \mid -1 \leq y \leq 3\}_{\mathbb{R}}$
- $P_1(4,2)$ $P_2(-4,-4)$ $D = \{x \mid -4 \leq x \leq 4\}_{\mathbb{R}}$ $W = \{y \mid -4 \leq y \leq 2\}_{\mathbb{R}}$

Lösungen:

	m	P_y	$y = f(x)$	P_x
1	$-\frac{4}{5}$	$(0, 7\frac{3}{4})$	$f(x) = -\frac{5}{4}x + 7\frac{3}{4}$	$(6\frac{1}{5}, 0)$
2	$-\frac{2}{5}$	$(0, -\frac{11}{5})$	$f(x) = -\frac{2}{5}x - \frac{11}{5}$	$(-5\frac{1}{2}, 0)$
3	$\frac{4}{11}$	$(0, 1\frac{6}{11})$	$f(x) = \frac{4}{11}x + 1\frac{6}{11}$	$(-4\frac{1}{4}, 0)$
4	$\frac{3}{4}$	$(0, -1)$	$f(x) = \frac{3}{4}x - 1$	$(\frac{1}{3}, 0)$

Beispiel:

Gegeben: $f = \{x, y \mid y = f(x) = \frac{1}{2}x + 2\}_{\mathbb{R} \times \mathbb{R}}$

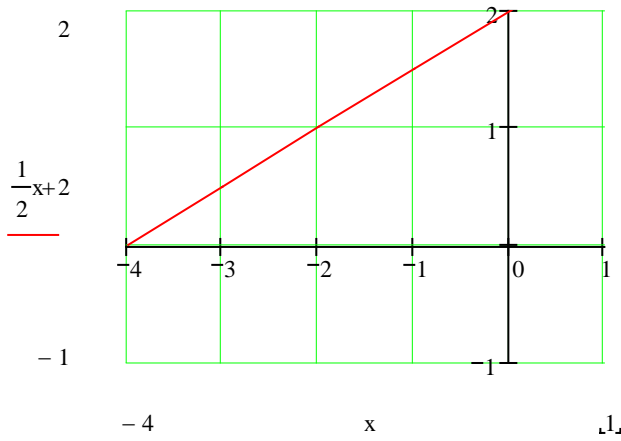
Gesucht:

- Schnittpunkt des Graphen der Funktion mit der Abszissenachse.
- Schnittpunkt des Graphen mit der Ordinatenachse.
- Graph der Funktion in
 $D = \{x \mid -4 \leq x \leq 1\}_{\mathbb{R}}$
 $W = \{x \mid -1 \leq x \leq 2\}_{\mathbb{R}}$

a) $y_0 = f(x_0) = 0 \Rightarrow \frac{1}{2}x_0 + 2 = 0 \Leftrightarrow x_0 = -4 \Rightarrow \underline{\underline{P_x(-4,0)}}$

b) $x = 0 \Rightarrow y_0 = f(0) = \frac{1}{2} \cdot 0 + 2 = 2 \Rightarrow \underline{\underline{P_y(0,2)}}$

c)



(C) Rudolf Brinkmann
Original Word-Dokumente
ohne Copyright-Vermerk
erhalten Sie unter:
<http://www.brinkmann-du.de>