

BGJ: Test Flächenberechnung I

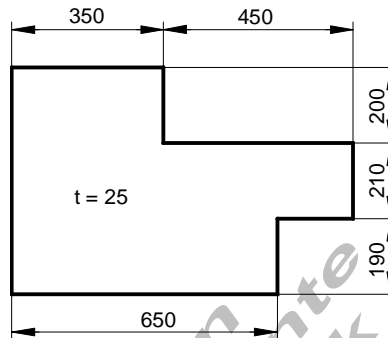
Test (A)

Mathematik

TG11G

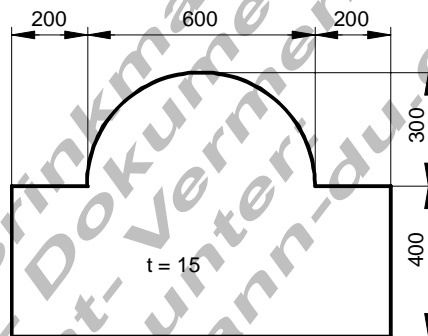
1. Berechne:

- den Flächeninhalt
- den Verschnitt
- den prozentualen Verschnitt bezogen auf das Rohblech
- die Masse (1m^2 Blech hat die Masse 8 kg)



2. Berechne:

- den Flächeninhalt
- den Verschnitt
- den prozentualen Verschnitt bezogen auf das Rohblech
- die Masse (1m^2 Blech hat die Masse 5 kg)



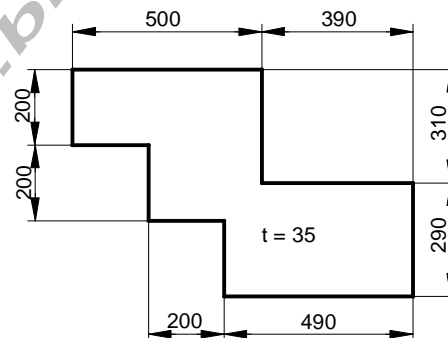
Test(B)

Mathematik

TG11G

1. Berechne:

- den Flächeninhalt
- den Verschnitt
- den prozentualen Verschnitt bezogen auf das Rohblech
- die Masse (1m^2 Blech hat die Masse 9 kg)



2. Berechne:

- den Flächeninhalt
- den Verschnitt
- den prozentualen Verschnitt bezogen auf das Rohblech
- die Masse (1m^2 Blech hat die Masse 6 kg)

